

Adı :
Soyadı:

2. Sınıf Matematik

Toplama İşlemi Toplamı Tahmin Etme-2

Toplama işleminde en yakın onluğa yuvarlayarak toplamı tahmin ediniz?

İşlem

$$\begin{array}{r} 44 \\ + 28 \\ \hline \end{array}$$

Tahminim

Gerçek Sonuç

Fark

İşlem

$$\begin{array}{r} 25 \\ + 39 \\ \hline \end{array}$$

Tahminim

Gerçek Sonuç

Fark

İşlem

$$\begin{array}{r} 73 \\ + 14 \\ \hline \end{array}$$

Tahminim

Gerçek Sonuç

Fark

İşlem

$$\begin{array}{r} 62 \\ + 28 \\ \hline \end{array}$$

Tahminim

Gerçek Sonuç

Fark

İşlem

$$\begin{array}{r} 49 \\ + 32 \\ \hline \end{array}$$

Tahminim

Gerçek Sonuç

Fark

Adı :
Soyadı:

2. Sınıf Matematik

Toplama İşlemi Toplamı Tahmin Etme-2

Toplama işleminde en yakın onluğa yuvarlayarak toplamı tahmin ediniz?



18



42



34



29



51



32




63



27


İşlem



Tahmin

Sonuç


İşlem



Tahmin

Sonuç


İşlem



Tahmin

Sonuç

İşlem



Tahmin

Sonuç

İşlem



Tahmin

Sonuç

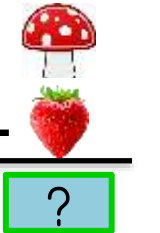
İşlem



Tahmin

Sonuç

İşlem



Tahmin

Sonuç

İşlem



Tahmin

Sonuç